

Gratis oefenbladen

RUIMTELIJK INZICHT



GROEP

7/8

www.wijzeroverdebasisschool.nl




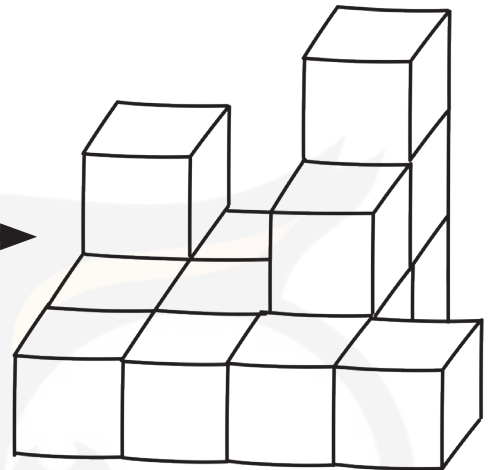
Oefenbladen Ruimtelijk inzicht

Groep 7/8


Omcirkel het juiste antwoord.

1.

Hoe ziet dit bouwsel er vanaf de voorkant, punt 1, uit?



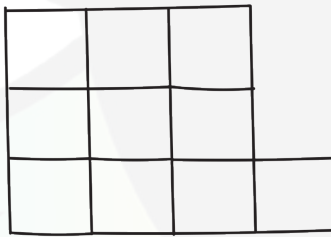
a



b



c



d

2.

Het krukje is in het echt 0,46

- a centimeter hoog
- b meter hoog
- c decimeter hoog
- d hectometer hoog






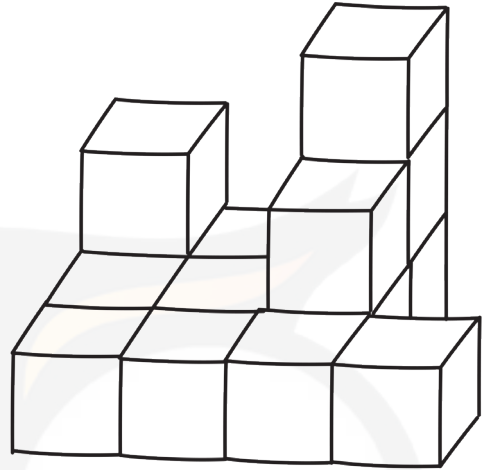
Oefenbladen Ruimtelijk inzicht

Groep 7/8

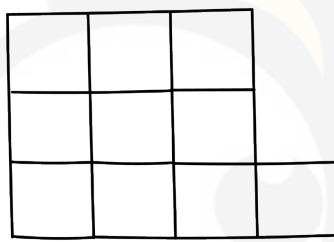
Omcirkel het juiste antwoord.

3.

Welke plattegrond hoort bij dit blokkenbouwsel?



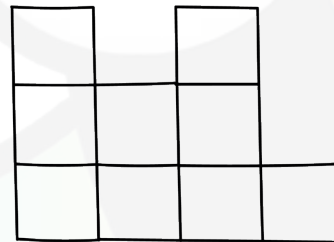
a



b




c




d

4.


Welke uitslag hoort bij de dobbelsteen?




a



b



c



d



Oefenbladen Ruimtelijk inzicht


Groep 7/8

Omcirkel het juiste antwoord.

5.

Hoe heet dit figuur?

- a rechthoek
- b vierkant
- c vijfhoek
- d cirkel



6.

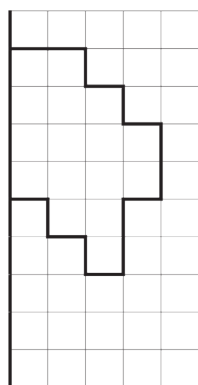
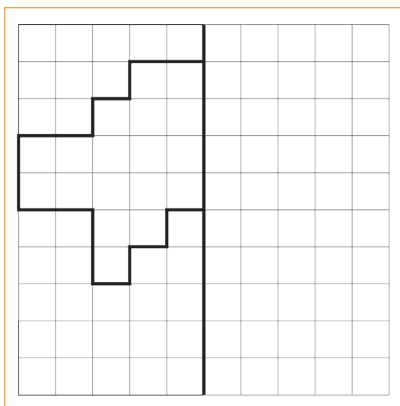
Ramar schildert een stilleven. Waar staat hij?

- a 1
- b 2
- c 3
- d 4

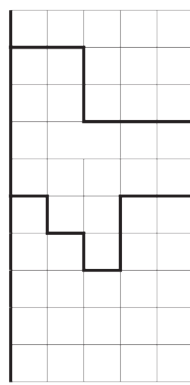


7.


Welk spiegelbeeld is juist?



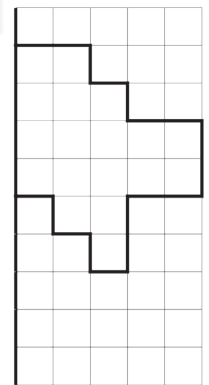
a



b



c



d



Oefenbladen Ruimtelijk inzicht

Groep 7/8

Omcirkel het juiste antwoord.

8.

Draai het voorbeeld een kwartslag naar links.

Hoe ziet het er dan uit?



a



b



c




d

9.

Kijk naar de schaduw van het skateboard.

Waar staat de zon?



- a bij 1
- b bij 2
- c bij 3
- d bij 4





Antwoorden Ruimtelijk inzicht Groep 7/8

1. c

2. b

3. b

4. a

5. c

6. a

7. d

8. c

9. a

